



المدرسة الوطنية للمهندسين بتونس

Ecole Nationale d'Ingénieurs de Tunis

ANNEE UNIVERSITAIRE 2017-2018

EXAMEN DE LA SESSION PRINCIPALE

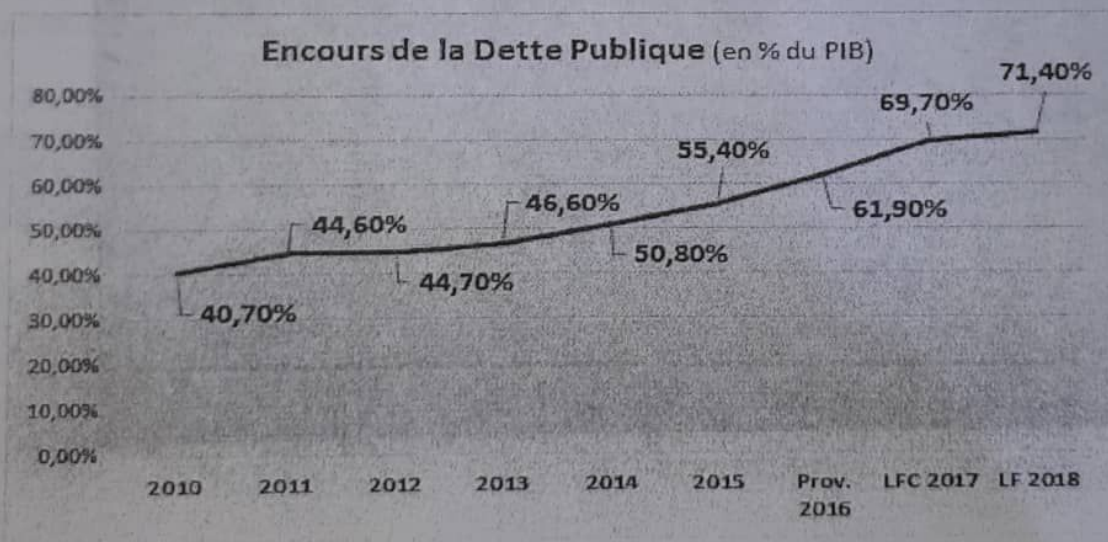
ANNEE : 1^{ères} Années MINDS, GE, GC, GHE

EPREUVE : Economie Générale- 2H

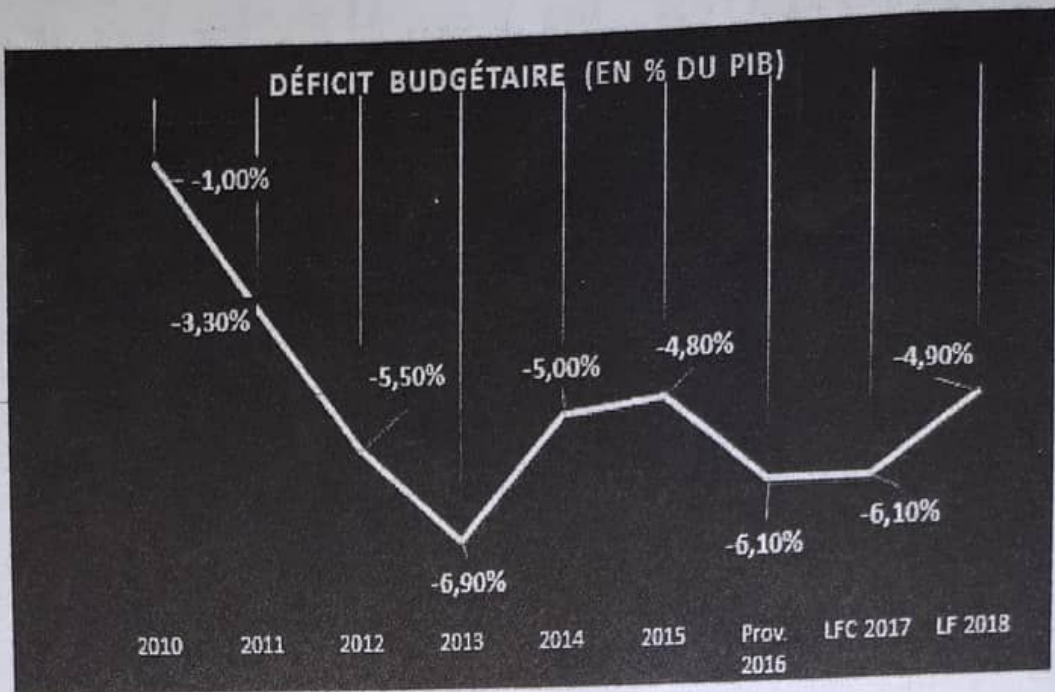
Exercice

1. Quelles sont les différentes catégories de dettes dans les pays en voie de développement ?
2. En utilisant vos connaissances et en vous aidant des graphiques ci-dessous, commentez la situation de l'endettement en Tunisie.
3. En quoi une dette publique importante peut-elle poser un problème ?
4. Lorsque la dette publique augmente, peut-on en conclure que c'est parce que les dépenses publiques ont également augmenté ? Pourquoi ?
5. L'agence Moody's, a baissé, en Mars dernier, la note souveraine de la Tunisie, passant de B1 à B2 :
 - a. Qui est Moody's ?
 - b. Sur quoi porte généralement l'évaluation ? A quoi sert-elle ?
 - c. Cette dégradation vous semble-t-elle justifiée ?

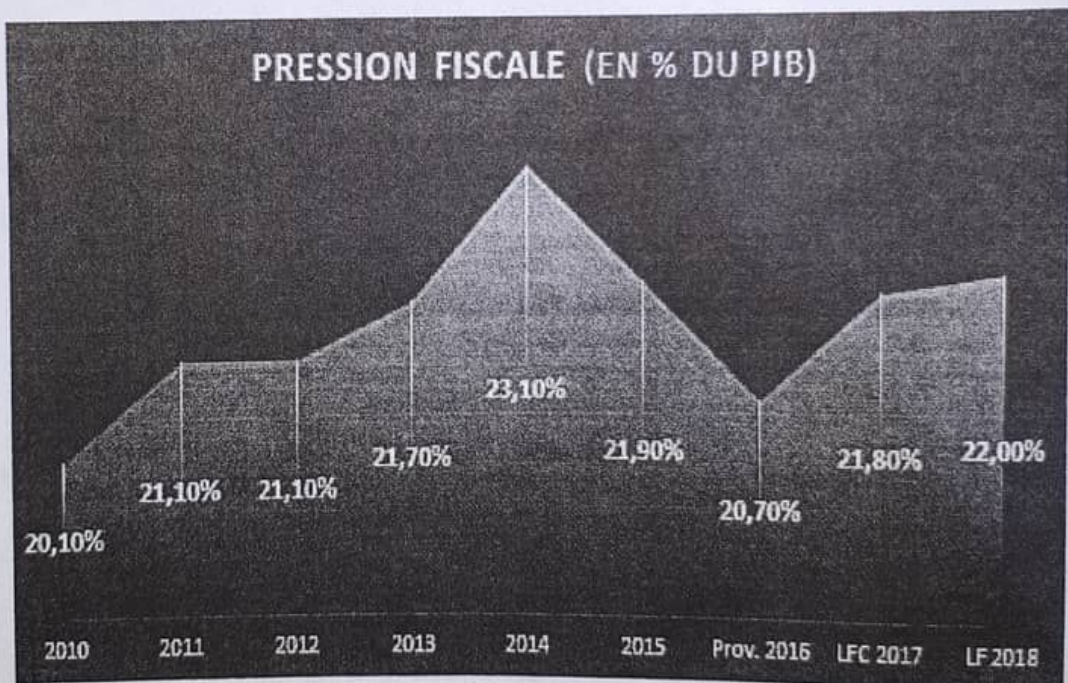
Graphique 1



Graphique 2



Graphique 3



Questions à choix multiples

- 1) Déterminez la ou les affirmations exactes :
- A) Une hausse du déficit public augmente la demande des fonds prêtables.
 - B) Une hausse du déficit public diminue la demande des fonds prêtables.
 - C) Une hausse du déficit public n'influence pas la demande des fonds prêtables.
 - D) L'effet multiplicateur des dépenses publiques est inférieur à l'effet multiplicateur des investissements.
 - E) L'effet multiplicateur des impôts est négatif.
 - F) Aucune des affirmations ci-dessus n'est exacte.
- 2) Déterminez la ou les affirmations exactes :
- A) La monnaie scripturale fait partie du stock monétaire M1.
 - B) La monnaie fiduciaire fait partie du stock monétaire M1.
 - C) Les chèques font partie du stock monétaire M1.
 - D) Les actions font partie du stock monétaire M1.
 - E) Si la banque centrale achète des bons du Trésor auprès du public, la quantité de monnaie en circulation augmente.
 - F) Les dépôts à vue font partie du stock monétaire M1.
 - G) Aucune des affirmations ci-dessus n'est exacte.
- 3) Déterminez la ou les affirmations exactes :
- A) Une hausse des prix mondiaux peut être à l'origine de l'inflation.
 - B) Une dépréciation de la monnaie nationale peut être à l'origine de l'inflation.
 - C) Une croissance excessive de la quantité de monnaie en circulation peut être à l'origine de l'inflation.
 - D) L'inflation diminue la valeur de la monnaie nationale.
 - E) Dans une période inflationniste même si le PNB nominal augmente en général, ce n'est pas nécessairement le cas avec le PNB réel qui peut même diminuer.
 - F) Aucune des affirmations ci-dessus n'est exacte.
- 4) la courbe d'offre de travail se déplace vers la droite si :
- A) la désutilité du travail diminue
 - B) la désutilité du travail augmente
 - C) La population active augmente
 - D) l'utilité du loisir augmente
- 5) Une politique budgétaire est sans effet sur le revenu :
- A) Si la droite LM est horizontale
 - B) Si la droite LM a une pente positive
 - C) Si la droite LM est verticale
- 6) La valeur du multiplicateur keynésien des dépenses augmente si :
- A) la sensibilité de l'investissement par rapport au taux d'intérêt augmente
 - B) la propension marginale à importer augmente
 - C) le nombre de fuites augmente
 - D) le taux d'imposition fiscale diminue

- 7) Le chômage involontaire baisse :
- A) si le niveau de la demande effective diminue
 - B) si les dépenses publiques augmentent
 - C) si la charge fiscale augmente
 - D) si l'offre de monnaie augmente
- 8) Dans l'équation quantitative de la monnaie :
- A) M mesure la variation du stock de monnaie
 - B) M désigne la demande réelle de monnaie
 - C) V mesure combien de fois en moyenne une unité monétaire est utilisée pour l'achat de biens et services
 - D) Le taux d'intérêt est égal à 10%
- 9) Dans le cas où les prix et les salaires sont rigides, un accroissement de l'offre de monnaie entraîne :
- A) une baisse du taux d'intérêt
 - B) un volume d'investissement plus important
 - C) une augmentation du niveau général des prix
- 10) Dans une économie de plein emploi, l'augmentation de la population active entraîne :
- A) une amélioration de la productivité marginale du travail et donc une augmentation du taux de salaire réel
 - B) un déplacement de la courbe d'offre de travail vers la droite et donc une baisse du taux de salaire nominal
 - C) une augmentation du volume de production d'équilibre
 - D) une baisse du taux de salaire réel
- 11) La demande de monnaie de spéculation :
- A) augmente à mesure que le taux d'intérêt s'élève car de plus en plus d'agents souhaitent convertir leurs titres en liquidités
 - B) augmente à mesure que le taux d'intérêt diminue car de plus en plus d'agents ont une préférence pour les titres
 - C) diminue à mesure que le taux d'intérêt augmente car de plus en plus d'agents ont une préférence pour les titres
 - D) diminue à mesure que le taux d'intérêt baisse, car de plus en plus d'agents souhaitent convertir leurs liquidités en titres